

## 2020年浙江公务员考试《行测》真题（B卷）

## 第一部分 数量关系

1、3, 5, 2, 2, -3, ( ), -12

- A. -5      B. -7      C. -9      D. -11

2、48, 24, 16, 12, ( ), 8

- A. 9      B. 9.6      C. 10      D. 10.8

3、36, 12, 30, 36, 51, ( ), 94.5

- A. 61      B. 69      C. 77      D. 85

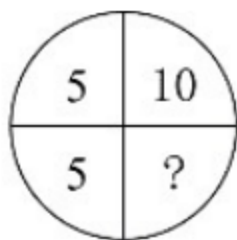
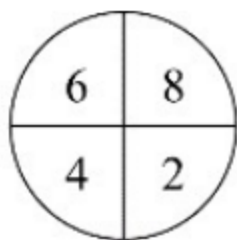
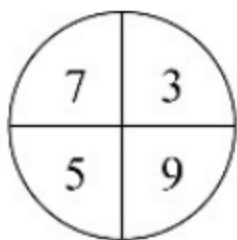
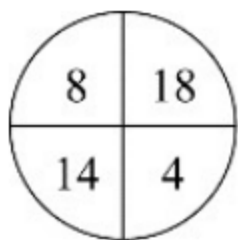
4、1, 4, 27, 256, ( )

- A. 1024      B. 1620      C. 3125      D. 3456

5、42, 40, 37, 32, 25, ( ), 1

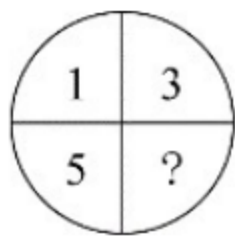
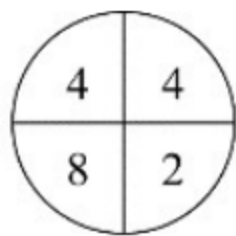
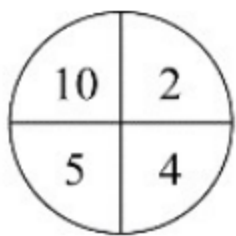
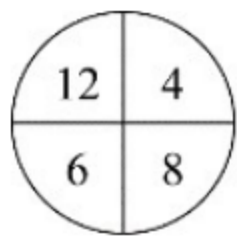
- A. 2      B. 6      C. 10      D. 14

6、



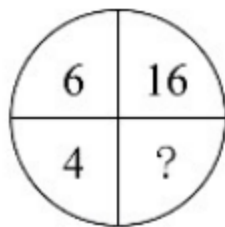
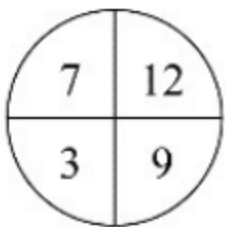
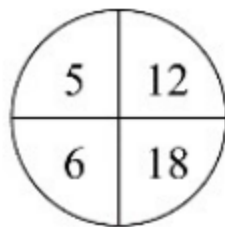
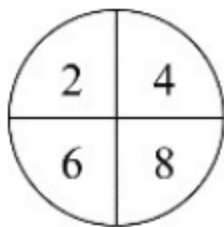
- A. 0      B. 1      C. 2      D. 3

7、



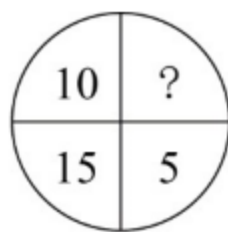
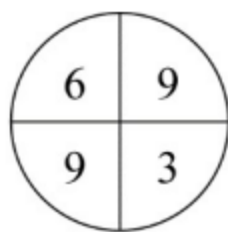
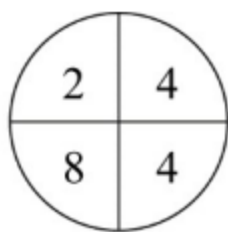
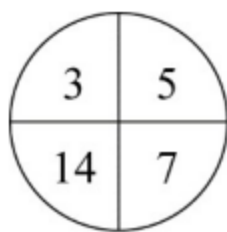
- A.  $\frac{1}{5}$       B.  $\frac{1}{3}$       C.  $\frac{3}{5}$       D. 1

8、



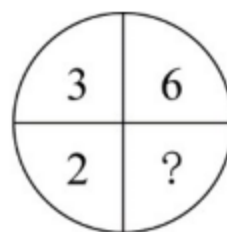
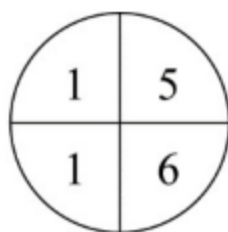
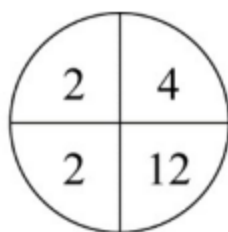
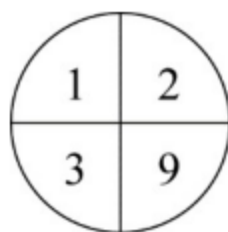
- A. 2      B. 4      C. 6      D. 8

9、



- A. 11      B. 12      C. 13      D. 14

10、



- A. 15      B. 18      C. 21      D. 24

11、某会务组租了 20 多辆车将 2220 名参会者从酒店接到活动现场。大车每次能送 50 人，小车每次能送 36 人，所有车辆送 2 趟，且所有车辆均满员，正好送完，则大车比小车（ ）。

- A. 多 5 辆      B. 多 2 辆      C. 少 2 辆      D. 少 5 辆

12、用边长为 0.2m 的正三角形地砖铺满一块边长为 1m 的正六边形地面，需要多少块地砖？（ ）

- A. 30      B. 60      C. 150      D. 180

13、一套试卷有若干道题，每题答对得 10 分，答错扣 5 分，不答扣 3 分。小郑答对、答错、不答的题目数量依次成等差数列，最后总分为 95 分，问这套试卷共有多少道题？（ ）

- A. 15      B. 30      C. 36      D. 45

14、一辆汽车第一天和第二天的行驶时间之比为 3:4，第二天与第三天行驶路程相同，第三天行驶 5 小时，第一天行驶 400 千米，三天全程的平均速度为 80km/h，问第二天的平均速度是多少 km/h？

( )

- A. 70      B. 75      C. 80      D. 85

15、超市销售某种圆珠笔，单盒装的售价 10 元，5 盒装的售价 40 元，10 盒装的售价 70 元，20 盒装的售价 120 元。现有两家企业来采购这种圆珠笔，甲企业的预算最多正好买 92 盒，乙预算最多正好购买 103 盒。问，两家企业如果合买最多比分开买多采购多少盒？（ ）

- A. 3      B. 5      C. 8      D. 10

16、从分别写着 1-9 数字的 9 张卡中选出 4 张并排列为一个四位数，其结果能被 75 整除的数字，

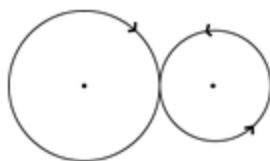
( )

- A. 不到 15 个      B. 15-20 个      C. 21-25 个      D. 超过 25 个

17、火车站售票窗口一开始有若干乘客排队购票，且之后每分钟增加排队购票的乘客人数相同。从开始办理购票手续到没有乘客排队，若开放 3 个窗口，需耗时 90 分钟，若开放 5 个窗口，则需耗时 45 分钟。问如果开放 6 个窗口，需耗时多少分钟？（ ）

- A. 36                      B. 38                      C. 40                      D. 42

18、某公园雇佣一名小丑表演骑独轮车。独轮车车轮直径为 50 厘米，小丑沿如图所示 8 字形轨迹骑行。轨迹为相切的两个圆，两个圆面积比是 16:9，小圆直径为 15 米。问小丑沿 8 字形轨迹骑行一圈，车轮转动了多少圈？（ ）



- A. 50                      B. 60                      C. 70                      D. 90

19、有两排各 6 个连续的空车位，包含甲车、乙车在内的 6 辆车随机停入这 12 个车位中，则以下哪种情况发生的概率最低？（ ）

- A. 有一排正好停了 2 辆车  
 B. 甲车和乙车停在同一排的不相邻车位  
 C. 甲车停在某一排的中间两个车位之一  
 D. 甲车和乙车中至少有 1 辆停在靠边的车位

20、企业对 25 名应聘者进行面试。已知所有应聘者的能力都不相同，面试采取 5 人一组的无领导小组讨论形式，每次面试都能对小组内 5 个人的能力进行排名。问至少要进行多少次面试才能保证选出能力最强的 4 个人？（ ）

- A. 7                      B. 8                      C. 9                      D. 10

## 第二部分 言语理解与表达

21、抗战小说因为题材的特殊性，一般强调英雄人物的“神圣使命”，强调军人形象塑造，\_\_\_\_\_百姓形象。而在《怒吼的平原》中，作者将普通群众纳入群像之中，军与民的笔墨虽不是\_\_\_\_\_，却同样饱含深情。依次填入划横线部分最恰当的一项是：（ ）

- A. 忽视 厚此薄彼                      B. 削弱 等量齐观  
 C. 忽略 伯仲之间                      D. 淡化 平分秋色

22、传统村落需要保护，是\_\_\_\_\_的吗？不是，反而需要充分的理由，尤其是对各利益相关方而言。传统村落保护的重大意义，凸显在中华民族整体的、长远的利益上，但现实中保护的责任或\_\_\_\_\_却由具体的人来承担。依次填入划横线部分最恰当的一项是：（ ）

- A. 不言自明 代价                      B. 自然而然 义务  
 C. 无庸赘述 使命                      D. 理直气壮 后果

23、徽州的一景一物，较之粗犷的西北，是\_\_\_\_\_的。那马头墙、小青瓦透出的人文气息，浓郁得似乎连游客都成了诗的一部分。粉墙黛瓦，青山绿水，全然一派水墨丹青的\_\_\_\_\_。

依次填入划横线部分最恰当的一项是：（ ）

- A. 大相径庭 韵味
- B. 截然不同 氛围
- C. 别具一格 风格
- D. 无可比拟 意境

24、传统高性能材料越来越依赖各类稀缺资源，人们想在自然界中找寻具有超物理特性天然材料的尝试一直\_\_\_\_\_，必须另辟蹊径，探寻超越常规材料性能极限的新型材料。直到 21 世纪初，美国研究人员在研制“隐身衣”的实验中利用微波技术发现了超材料的\_\_\_\_\_，才宣告了超材料的诞生。依次填入划横线部分最恰当的一项是：（ ）

- A. 屡试不爽 乾端坤倪
- B. 收效甚微 蛛丝马迹
- C. 困难重重 奇思妙想
- D. 举步维艰 一鳞半爪

25、芸芸众生中的一些人，放不下自己的身段，觉得到了某个年龄某个职位，就一定要有怎样的标配，略有不足，就觉得\_\_\_\_\_。这样的人\_\_\_\_\_又乏味，当把自己套进一个标准里面，就难免变得坚硬无趣，\_\_\_\_\_。其实，聪明的活法，是可以把生活过得有弹性，能屈能伸，能进能退。

依次填入划横线部分最恰当的一项是：（ ）

- A. 无奈 固执 斤斤计较
- B. 屈就 刻板 作茧自缚
- C. 失落 平庸 形如槁木
- D. 不满 可悲 碌碌无为

26、近年来，我国在信息技术上取得长足进步，但仍然没有完全解决核心技术“卡脖子”的问题。面对现实，我们既不可夜郎自大，也不能\_\_\_\_\_。路是自己走出来的，突破核心技术这个难题，说到底要靠我们自己奋发有为，加速打造“中国芯”，以自主创新\_\_\_\_\_技术格局。

依次填入划横线部分最恰当的一项是：（ ）

- A. 一蹶不振 主导
- B. 妄自菲薄 重塑
- C. 自怨自艾 刷新
- D. 安之若素 构建

27、在媒体市场竞争中，\_\_\_\_\_是整个市场正常有序运行的根本法则。新媒体凭借超越时空的非线性传播特性、跨边界的国际传播影响力成为新时代的\_\_\_\_\_。可以说，谁掌握了新媒体，谁就走在了市场的前面。

依次填入划横线部分最恰当的一项是：（ ）

- A. 与时俱进 骄子
- B. 推陈出新 潮流
- C. 优胜劣汰 宠儿
- D. 弱肉强食 利器

28、在视频网站行业，每一个视频内容获得多少点击量\_\_\_\_\_，行业也会根据视频内容带来的流量分配收益，但在线音乐平台并不公开这些数据，这就导致大家很难按照音乐作品真正带来的价值来分配收益。数据\_\_\_\_\_才能令音乐行业得以变革，也会促进优秀音乐内容的生产。

依次填入划横线部分最恰当的一项是：（ ）

- A. 了如指掌 精准化
- B. 显而易见 可视化
- C. 不言而喻 公开化
- D. 一清二楚 透明化

29、金融的本质特征之一是风险管理,金融机构控风险\_\_\_\_\_。与此同时,民营企业也需要管理自己的风险,要对自己负责。因为,通过市场化的方案解决企业融资难未来将越发成为应对问题的主流,风险\_\_\_\_\_才是市场化。这是一种挑战和约束,有利于在实体经济和金融体系之间,树立一个正向的“市场化预期”。依次填入划横线部分最恰当的一项是：（ ）

- A. 理所当然 自担
- B. 势在必行 均摊
- C. 大势所趋 防控
- D. 情有可原 规避

30、天下熙熙攘攘,为稀土而来,为稀土而往。各种黑科技产品\_\_\_\_\_离不开的稀土一直都是“香饽饽”,各国都为寻找掌握更多稀土资源而\_\_\_\_\_。

依次填入划横线部分最恰当的一项是：（ ）

- A. 根本 挖空心思
- B. 完全 殚思竭虑
- C. 须臾 绞尽脑汁
- D. 片刻 尽心竭力

31、媒介失忆是指值得记忆信息的\_\_\_\_\_,而媒介失声则是对值得记忆信息的\_\_\_\_\_。迅速、真实、客观、准确地告知、报告和记载有意义的新闻事实和信息,本应是媒介记忆中的头等大事。媒介如果在重大社会问题或重要新闻事件上发生障碍性、麻痹性失声,对有文献和历史价值的信息熟视无睹,其实就是媒介的不记忆和不作为,是媒介\_\_\_\_\_。

依次填入划横线部分最恰当的一项是：（ ）

- A. 错失 无视 失责
- B. 丢失 漠视 失职
- C. 消失 轻视 读职
- D. 散失 忽视 塞责

32、传统的银行信贷模式是依赖担保和抵押。互联网、大数据等技术的快速\_\_\_\_\_催生了金融的变革和创新。借助大数据的应用,以科技金融的方式\_\_\_\_\_传统小微业务,可以提升金融服务的质量和效率,做到真正意义上的普惠金融。

依次填入画横线部分最恰当的一项是：（ ）

- A. 崛起 打造
- B. 更新 推动
- C. 启动 重构
- D. 迭代 介入

33、“国学”这个概念是从日本输入的。19世纪末,刘师培、章太炎、梁启超等接受了日本的“国学”概念,并将其引入中国。当时引进这样一个概念,是为了和西方学问相区别,是被逼出来的。古人从不称自己的学问为“国学”,而直称其为儒学、道学、理学、心学、佛学、玄学、子学等。“国学”概念出现之后,作为一国固有之学问,究竟包含哪些内容,实在是各说各话,无法统一。根据这段文字,“国学”的哪一方面不能确定?（ ）

- A. 诞生背景
- B. 具体所指
- C. 传播过程
- D. 概念来源

34、文艺复兴一般被视为一场源自 14 世纪意大利而后蔓延到整个欧洲的思想与艺术运动，而殖民主义则往往同 15 世纪末以来欧洲开辟新航路、发现新大陆以至对亚非拉地区的政治奴役、经济剥削、军事占领等历史发展相联系。过去，两者的研究相隔甚远，但最近有学者敏锐地把握到两者实有一种隐蔽的叠合关系。这段文字接下来最可能讲述的是：（ ）

- A. 文艺复兴如何为殖民主义铺路
- B. 殖民主义相关内容的研究现状
- C. 殖民主义对亚非拉地区的深远影响
- D. 文艺复兴如何引发欧洲思想艺术运动

35、军事战略空间融合化指的是战略空间不再仅限于军事或战时范畴，而是融合了一个国家治国理政的各个领域和所有时期。在和平与发展成为时代主题的大背景下，战争和冲突只发生在世界局部地区。这就要求战略主体转变对战略空间的价值判断，把战略空间的安全目标和发展目标有机融合。冷战结束后，许多军事空间开始向军民融合空间的方向转变，形成一股潮流。历史上，各国十分重视边境线、公海、两极、太空等战略空间的军事控制权，而现在越来越关注的则是如何实现共同安全和共同发展的融合。这段文字意在说明：（ ）

- A. 战略空间的概念已扩展至国家治理各个层面
- B. 军民融合是军事战略空间融合化的主要方向
- C. 时代主题的变化改变了军事战略空间的内涵
- D. 安全和发展是当前国际军事战略研究的主题

36、长期的城乡二元发展格局，导致城乡在科技、人才、资金及土地等要素配置方面严重不均衡，并且农村的优质资源还在源源不断地向城市集中，难以避免地造成农村产业萎缩乃至空心化。通过建立健全城乡融合发展机制，推动城乡要素自由平等交换，消除城市优质要素资源向农村流动的各种障碍，才能真正形成乡村产业兴旺的基础条件。事实上，我国农村三产融合发展好的地方往往也是城乡融合发展程度高的地方。这段文字主要说明农村三产融合发展：（ ）

- A. 受制于城乡二元发展格局
- B. 需吸引城市优质要素资源的流入
- C. 与城乡融合的发展水平息息相关
- D. 应解决城乡间资源配置不均衡的问题

37、从政策沿革来看，行业出现产能过剩时，治理政策通常先从拉动内需的角度去设计。实际上，\_\_\_\_\_。许多基础设施比较薄弱的新兴市场经济国家对传统产业产能需求还非常大，外部市场正在帮助解决内部需求不足的问题。填入划横线部分最恰当的一项是：（ ）

- A. 外部需求也是化解产能过剩的突破口
- B. 化解产能过剩还要更多依靠市场机制
- C. 化解产能过剩必然是个长期的过程
- D. 一味依赖市场扩容也仅仅是缓兵之计

38、人们喜欢从半封闭、安全的住宅中，往外眺望心目中理想的景色。如果能自由选择，他们选择的居家环境总是两者兼顾，一方面是安全的避难所，另一方面则视野辽阔，以便向外发展和觅食。

不同性别的人，选择可能稍有差异，至少在西方风景画家家中是如此：女性画家强调安全的居所，前景通常不大；男性画家则强调开阔的前景。此外，女画家似乎比较喜欢把人物的位置安排在居所内或附近；反观男画家，常常把人物安排到一望无际的空间中。

对这段文字理解错误的是：（ ）

- A. 人们的择居倾向是主要话题，性别比较是衍生话题
- B. 人们在选择住宅时首先考虑安全，也渴望亲近自然
- C. 可以看出作者更赞赏男画家对住宅开阔前景的喜好
- D. 可以推断作者认为的理想住宅的前景不可能是森林

39、从古代开始，对修辞的研究，就一直包含着伦理的层面。所谓修辞，也就是使用语言来有效说服他人的技巧、技艺或艺术。修辞这种公共话语的伦理价值包括好的动机、对他人的养意、话语内容的真实。离开或背弃了这样的伦理价值，言论技巧就会成为一种不正当的修辞，一种为达目的可以无所不用的手段，一种不正当的诡辩或巧言。这段文字的中心话题是：（ ）

- A. 公共话语的修辞
- B. 修辞的伦理价值
- C. 伦理价值的内涵
- D. 反对诡辩或巧言

40、把环卫工群体的人力资源利用起来，将之与规范共享单车停放的需求对接，是多赢之举：兼管单车虽然会加重环卫工的劳动负担，但他们的收入也会增加；环卫工参与管理单车，有利于单车企业降低损耗和成本，将更多资金用在企业发展上；对于城市管理来说，单车摆放有秩序，市容市貌也会更好。这段文字意在说明：（ ）

- A. 兼管单车能够增加环卫工收入
- B. 城市管理应整合各方资源优势
- C. 环卫工兼管单车可以一举多赢
- D. 共享经济需多方参与才能共赢

41、①于是，无数的天文爱好者冒着眼眸被灼伤的风险，持续追寻这颗行星的踪迹

②祝融星，这颗曾经被热捧的行星是物理学发展史最好的注脚，它的“出现”和“消失”都十分精彩

③《追捕祝融星》一书里，这场漫长博弈中的理论和实践的冲突被摆在读者的眼前。科学家内心的矛盾和挣扎也纤毫毕现

④原来，祝融星根本不存在

⑤直到 1915 年，爱因斯坦顶着巨大的压力提出广义相对论，才为这场持续数百年的追寻画上句号

⑥自从牛顿奠定经典力学理论以来，无数人将祝融星奉为圭臬，即使发现水星的轨道偏离理论预言，也只是相信在更靠近太阳的地方，是它的存在干扰了水星轨道

将以上 6 个句子重新排列，语序正确的是：（ ）

- A. ②④③⑥⑤①
- B. ②⑥①⑤④③
- C. ⑥③④②①⑤
- D. ⑥⑤①④③②

42、数字经济的发展与个人信息保护本不应是非此即彼的选择。然而，无论是传统产业的兴衰，还是近年来经济新业态的更迭，许多教训在提醒我们，发展与规范极易顾此失彼。数据是数字经济的“粮食”，而数字经济则被看作是中国经济实现弯道超车的良机。然而，数字经济与信息数据保护之间的冲突已日益凸显。个人信息保护基本规范缺位，监管执行无力且迟缓，平台侵权频发，诸多难题倘若不能尽快破解，最终必然拖累数字经济本身。

这段文字意在强调：（ ）

- A. 中国发展数字经济须先建立规范有序的市场
- B. 数字经济时代依法依规保护个人信息迫在眉睫
- C. 数据收集与个人权益保护之间的矛盾难以调和
- D. 迅猛发展的数字经济不可避免地带来数据安全问题

43、不可否认，数学在经济学、管理学研究中有广泛的应用，为推动学术研究和科学决策发挥了积极作用。但是，学术研究应以问题为导向，而不是以技术为导向，数学方法只是工具和手段，不是目的。研究实践中，一些论文只用文字或辅以简单的图表，学术水平依然很高；有的论文没有使用数学模型，明白晓畅，即使非专业人士都能读懂。说到底，论文是用来表达思想和观点的，优秀的论文应兼具思想启迪性、理论创造性、通俗可读性。

根据这段文字，作者最可能想批评的是：（ ）

- A. 学术论文存在片面追求数理模型的倾向
- B. 经管研究类论文缺乏深度、创新和易读性
- C. 学术研究成果在一定程度上与现实需求脱节
- D. 学术评价中“唯论文”、重数量、功利化的现状

44、荣格说：“一切文化将最终积淀为人格。”对家的依恋和向往，构成了中国人千百年来的文化人格，以至于亲情眷顾成为中国人深入骨髓的文化胎记，过年回家成为春节最重要的节日仪式。年复一年，亿万家庭的团圆故事总会在春节集中上演，“人类最大规模的周期性迁徙”成为春节这股文化潮汐持久不衰的生动见证。

关于划线的段首句的作用，解释错误的是：（ ）

- A. 为观点提供有力的论据
- B. 增强现象描述的说服力
- C. 可以让表达更简洁凝练
- D. 是对段旨的提炼和概括

45、家长们担心孩子过度依赖手机会损害视力、看到不良信息。但值得注意的是，除了这些浅表层次的影响外，最重要的在于移动学习提高了学生的信息搜索能力，却也因答案的易得性而忽略了学生分析能力、创造能力的训练，这些才是学习最重要、最核心的部分。

这段文字意在强调：（ ）

- A. 家长们为孩子过度依赖手机感到焦虑
- B. 过度依赖手机会对孩子身体健康不利

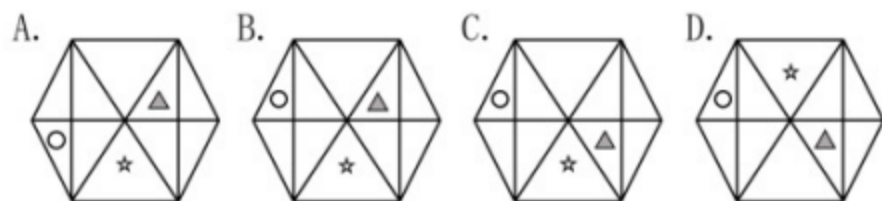
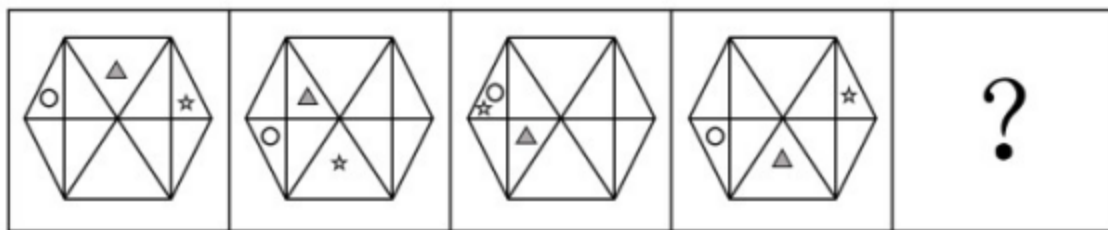


C. 移动学习提高了学生的信息搜索能力

D. 移动学习对训练分析和创造能力不利

### 第三部分 判断推理

46、从所给的四个选项中，选择最合适的一个填入问号处，使之呈现一定的规律性：（ ）



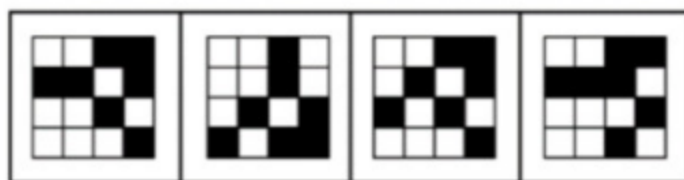
A. A

B. B

C. C

D. D

47、从所给的四个选项中，选择最合适的一个填入问号处，使之呈现一定的规律性：（ ）



A

B

C

D

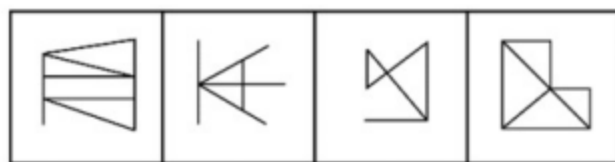
A. A

B. B

C. C

D. D

48、从所给的四个选项中，选择最合适的一个填入问号处，使之呈现一定的规律性：（ ）



A

B

C

D

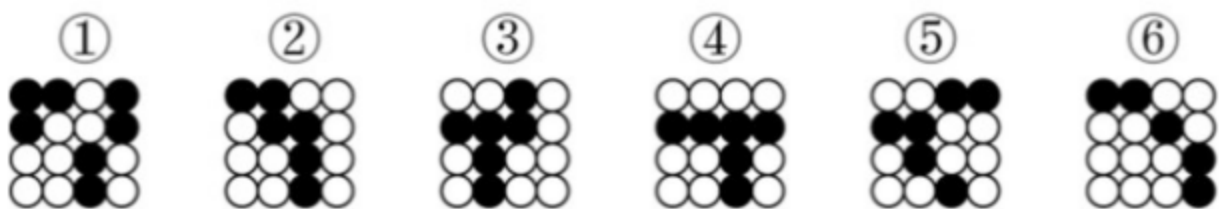
A. A

B. B

C. C

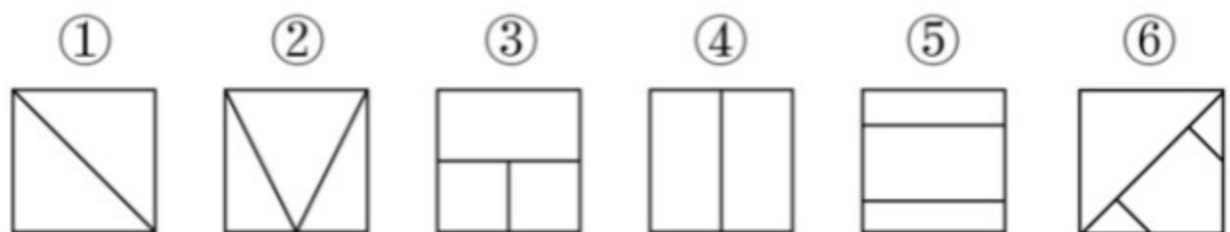
D. D

49、把下面的六个图形分为两类，使每一个图形都有各自的共同特征或规律。分类正确的一项是：  
( )



- A. ①②③, ④⑤⑥  
B. ①②⑥, ③④⑤  
C. ①②④, ③⑤⑥  
D. ①④⑥, ②③⑤

50、把下面的六个图形分为两类，使每一个图形都有各自的共同特征或规律。分类正确的一项是：  
( )



- A. ①②③, ④⑤⑥  
B. ①②⑤, ③④⑥  
C. ①②④, ③⑤⑥  
D. ①④⑤, ②③⑥

51、体象障碍是指一个人强迫性地认为自己身体的某些部分有严重的缺陷，并采取特殊的方式来掩盖或“修复”。而这些被感受到的缺陷，通常是想象出来的；即便缺陷确实存在，它的严重性也是被夸大的。根据上述定义，下列符合体象障碍表现的是：( )

- A. 爱美的小王在拍完证件照后让摄影师为其修图  
B. 爱干净的小李每天早上花一小时在卫生间洗漱  
C. 外表不突出的小高经常宅在家中，不喜欢参加社交活动  
D. 身高 170 厘米的张女士认为自己身材矮小，每次出门必穿高跟鞋

52、信息影响法则指的是人们往往会对极为熟悉的、形象生动的、特点鲜明的信息产生积极的心理反应，不仅表现得非常敏感，而且容易印象深刻。

根据上述定义，下列没有反映信息影响法则的是：( )

- A. 小郑在电视中看到某洗发水广告，他觉得葫芦形产品包装很可爱，于是去超市买了这款洗发水  
B. 小林最近加班多，觉得颈部不适，同事推荐给他一款配乐颈椎按摩仪，他试用了一下，觉得效果不错  
C. 许多小朋友爱看某款动画片，当商场里出现该动画片里相关人物的玩偶时，小朋友们都会特别兴奋