

# 2009 年山东省公务员考试《行测》真题卷

## 注意事项

1. 本测验分为五个部分，共 140 小题，题型为单项或多项选择题。总时限为 120 分钟，答题时请注意合理分配时间。
2. 请按照要求在答题卡上填写好姓名，涂好准考证号。严禁折答题卡。
3. 请将题本上的条形码揭下，贴在答题卡指定位置。没有贴条形码的答题卡将按废卡处理，成绩记为零分。
4. 必须在答题卡上答题；在题本上答题，一律无效。
5. 监考人员宣布考试开始时，方可答题；宣布考试结束时，应立即停止答题。题本、答题卡、草稿纸一律留在桌上，待监考人员确认数量无误，允许离开后，方可离开考场。  
如果你违反了以上任何一项要求，都将影响你的成绩。
6. 在本测验中，有些试题可能较难，请不要在一道题上思考时间太久，遇到不会答的题目，可先跳过去，如果有时间再思考，否则，你可能没有时间完成后面的题目。
7. 试题答错不倒扣分。

### 第一部分 言语理解与表达（共 35 题，参考时限 30 分钟）

本部分包括表达与理解两方面内容。请根据题目要求，在四个选项中选出一个最恰当的答案。

请开始答题：

1. 每一届《感动中国》的感动点，实际上都和当年中国特定的大背景相关联，触动了中国公众最敏感的神经，代表了当年最能\_\_\_\_\_公众\_\_\_\_\_，最能感动中国的力量。

填入横线部分最恰当的一项是（ ）。

- A、引起 共鸣                      B、打动 心灵                      C、拨动 心弦                      D、震撼 内心

2. 唐山十三位农民兄弟：不是归途，是千里奔波，雪中送炭；不是邻里，是素不相识，出手相援。他们用纯朴、\_\_\_\_\_和\_\_\_\_\_的行为，告诉了我们“兄弟”的含义。

填入横线部分最恰当的一项是（ ）。

- A、正直 坚强                      B、感恩 非凡                      C、善良 倔强                      D、真情 执着

3. 在相携相伴的风雨同行中，一批人走过风华正茂，正在经行而立不惑，一批人领略了春夏的\_\_\_\_\_而收获着金秋的\_\_\_\_\_。

填入横线部分最恰当的一项是（ ）。

- A、炙热 静美                      B、明媚 丰厚                      C、绚烂 丰盈                      D、烂漫 静谧

4. 牺牲在抗灾前线的年轻战士武文斌：山崩地裂之时，绿色的迷彩撑起了生命的希望，他竖起了旗帜，自己却悄然倒下，在那灾难的\_\_\_\_\_背景下，他 26 岁的青春，是\_\_\_\_\_的那束光。

填入横线部分最恰当的一项是（ ）。

- A、沉重 明亮                      B、阴森 耀眼                      C、黑色 最亮                      D、慌乱 绚丽

5. 要创作一件艺术作品包括一篇文学作品，需要一些条件，这就是知识、经验、想象三样东西，把知识和经验\_\_\_\_\_组织起来，这就是\_\_\_\_\_。

填入横线部分最恰当的一项是（ ）。

- A、结合 创造力                      B、糅合 创作力                      C、调和 想象力                      D、协调 感受力

6. 消防战士李隆：火场、废墟，有多少次出生入死，就有多少次不离不弃。他用希望\_\_\_\_\_希望，用生命\_\_\_\_\_生命。

填入横线部分最恰当的一项是（ ）。

- A、点燃 换回                      B、带来 挽救                      C、扩展 激活                      D、连接 拯救

7. 就一个群体而言，发生某种风险的几率会随着规模的扩大而趋向一个常数。层次越高，范围越大，人数越多，这个客观存在的\_\_\_\_\_就越\_\_\_\_\_、越稳定。

填入横线部分最恰当的一项是（ ）。

- A、定数 集中                      B、变数 显著                      C、常数 明显                      D、固数 明确

8. 在这个世界上，依然有很多朋友热爱纸质的芬芳，翰墨的留香，也依然有很多人经过岁月的\_\_\_\_\_后仍坚守着朴实的\_\_\_\_\_，渴望真诚的交流，欣赏丰富而\_\_\_\_\_的灵魂。

填入划横线部分最恰当的一项是（ ）。

- A、淘洗 信念 淡定                      B、洗礼 理想 平静                      C、磨砺 理念 激扬                      D、检验 作风 优雅

9. 2008年，中国大地上堪称祸福更替，悲喜交集。所谓“福”和“喜”，大抵是百年一遇，普照人心，如迎接北京奥运会和残奥会，纪念改革开放30周年；而所谓“祸”与“悲”，则属于\_\_\_\_\_、\_\_\_\_\_。

填入划横线部分最恰当的一项是（ ）。

- A、惊天动地 千难万险                      B、惊涛拍岸 山河破碎                      C、猝不及防 石破天惊                      D、防不胜防 有惊有险

10. 党的十七届三中全会通过的《中共中央关于推进农村改革发展若干重大问题的决定》指出：农业基础依然薄弱，最需要\_\_\_\_\_；农村发展依然滞后，最需要\_\_\_\_\_；农民增收依然困难，最需\_\_\_\_\_。

填入划横线部分最恰当的一项是（ ）。

- A、强化 带动 扶助                      B、加固 支持 提高                      C、加强 扶持 加快                      D、夯实 加快 扶持

11. 清人纪晓岚讲过：有个官员一辈子没做过坏事，所到之处，也不过饮人一杯清水而已，于是想要阎王爷赏他来生还去做官。阎王爷却讥笑道：不贪不占，就能算是好官吗？假若不搜刮民财就是好官，那么塑一个木偶放在官府，连井水也不喝，岂不更好？该官辩解：我虽无功，但也无罪呀。岂料阴司对为官者行为俱记录在案：做官三年，无绩可求，纯属混混一个。

这段文字意在说明（ ）。

- A、为官之道                      B、无功即为有过                      C、为官需廉政亦需勤政                      D、为官不为民做主，不如回家种红薯

12. 仙人掌这种无叶有节、长着刺的“常青植物”、“卫士植物”无论是生长在沙漠、悬崖这种人迹罕至之地，或是公园、路边这种人流如川之地，她都能做到坦然无忧，笑迎日出日落。无论是其形胖如山丘，或是其体瘦如孤峰，她都能安身为乐，外不劳形去减肥；无忧为福，内不思悲以滋补，很有点“莫思身外无穷事，且尽生前有限杯”的味道。

这段文字描述的主要是（ ）。

- A、仙人掌的做派是豁达的，仙人掌的风骨是秀爽的。
- B、仙人掌的胸襟是博大的，仙人掌的精神是高尚的。
- C、仙人掌的生命是顽强的，仙人掌的情趣是自然的。
- D、仙人掌是平常的花瓶，但又不平常的刺头。

13. 根基坚固，才有繁枝茂叶，硕果累累；倘若根基浅薄，便难免枝衰叶弱，不禁风雨。山不解释自己的高度，并不影响它的耸立云端；海不解释自己的深度，并不影响它容纳百川；地不解释自己的厚度，但没有谁能取代它孕育万物的地位……人生在世，我们常常产生想解释点什么的想法。然而，一旦解释起来，却发现任何解释都是那样的苍白无力。

这段文字告诉我们的道理是（ ）。

- A、开水不响，响水不开
- B、欲成事者必须严以律己
- C、低调做人，是一种智慧
- D、解释的多余和尴尬

14. 在春秋战国时期宋国有个叫子罕的以不贪而名垂青史。有一次，一个人得了块玉，拿去送给当权的子罕。子罕拒不接受。那人说，让做玉的师傅看过，说是件宝物，才敢送给你的。子罕道，你的宝物是这块玉，我的宝物是“不贪”，我若收下你这块玉，你和我的宝物不都丧失了吗？还不如各人留着各自的宝物好啊！

这段文字给人的警语是（ ）。

- A、君子慎独。
- B、君子坦荡荡，小人常戚戚。
- C、一丝一缕，我之名节；一厘一毫，民之脂膏。
- D、宽一分，民受赐不止一分；取一文，我为人不值一文。

15. 看到室内墙角处的一轮旧纺线车，耳际似乎响起那彻夜不眠的嗡嗡声；目睹旧织布机，往事仿佛在那节奏感强烈的织布声中浮现脑海。家织土布属于古老的传统技术，男耕女织，天经地义。土布常被作为农村姑娘的嫁妆和她们心灵手巧的见证。农家妇女坐在织布机旁，把她们多姿多彩的生活与梦想编织在或清白如雪或繁花似锦的土布里。

这段文字表达的主要是（ ）。

- A、心灵的归本还原、还淳返朴
- B、人间的真情珍藏在土布中
- C、旧事民风，睹物生情
- D、昔日的浮华如梭穿过

16. 汉字的方块式结构由点画穿插而成，经历过多次演变，形成篆、隶、草、行、楷五种字体。篆书是匀净的线

条组织，结构类似图案。隶书笔画变篆书的婉转为方折，横平竖直、撇捺翻挑，结构仿佛“崇台重宇”。楷书的笔画形状最丰富，结体欹侧而端庄。行书也是欹侧的体态，但是笔画牵连映带，具有流利的美韵。草书线条连绵盘曲，结构简略，放逸生奇。

这段文字表达的主要是（ ）。

- A、中国书法是书写汉字的艺术。
- B、书法的外在形式美来自汉字形态。
- C、书法的内在美韵来自书写的笔力、笔势。
- D、书法这门艺术的显著特征是由“汉字”与“书写”所决定。

17.有人说：没有享受到某种社会服务的人就好像一个大沙漠，享受到这种社会服务的人就好像大沙漠中的一个绿洲，沙漠永远在吞噬着绿洲，而保护绿洲的唯一办法，就是把沙漠尽快地改造成为绿洲。

这段文字说明的是（ ）。

- A、大数定律
- B、沙漠效应
- C、绿洲效应
- D、此长彼消法则

18.《史记》中《公仪休嗜鱼》说的是，公仪休在鲁国当丞相的时候特别喜欢吃鱼，有很多人投其所好送鱼给他，他一概不收。有人问：你为什么喜欢吃鱼却不收鱼？他说，我现在做丞相买得起鱼，自己可以买来吃。如果因接受了别人送的鱼而被免职，我从此就买不起鱼，也吃不起鱼了。

这段文字意在说明（ ）。

- A、贪欲猛如虎，贪欲如洪水
- B、人的性格各异，嗜好有别
- C、做一个正直向上的人，首先要“寡欲”
- D、贪欲是把一个人推向不归路的“助推器”

19.在觅食过程中，成百上千只蚂蚁在蚁穴和食物所在处之间来来往往，最终都能够在相对最短的时间内得到食物，却从来不会有拥堵现象出现。德国科学家赫尔冰发现，避免道路拥堵是基于蚂蚁之间的交流。在一条路有可能出现拥堵时，返回的蚂蚁就向迎面过来的同伴发出信息素，让它选择另一条路。他认为，人类可以采取相同方法减少车辆拥塞现象。

这段文字说明的主要是（ ）。

- A、聪明蚂蚁启发人类解决交通拥堵
- B、解决难题，从蚂蚁觅食中找思路
- C、互通情况，绕道可避免遭遇拥堵
- D、蚂蚁的不拥堵与人类的车辆拥塞

20.三个和尚在破庙里相遇。“这庙荒废必是和尚不虔。”甲和尚说。“必是和尚不勤。”乙和尚说。“必是和尚不敬。”丙和尚说。三人争执不下，决定留下来各尽所能。于是甲和尚礼佛念经，乙和尚整理庙务，丙和尚化缘讲经，果然香火渐盛。但是，后因三人争功闹个不休，庙里的盛况又逐渐消失了。

这段文字告诉我们的道理是（ ）。

- A、所有的成败得失，取决于天时、地利和人和
- B、“三个和尚没水吃”这句话是有道理的
- C、成也人心，败也人心；得也人心，失也人心
- D、分工负责、各尽所能十分重要

21.楷树，果实椭圆形，红色，木材细致。相传这种树最早生长在孔子墓旁，树干挺拔，枝繁叶茂，似为众树的

榜样。模树，春天青翠碧绿，夏季赤红如血，秋日变白，冬日变黑，因其色泽纯正，“不染尘俗”也为诸树之榜样，相传此树最早生长在周公的墓旁。这两种树分别称之为“楷”和“模”，以树喻人，故把人的模范行为称之为“楷模”。

这段文字意在说明（ ）。

- A、“楷”和“模”是两种树木的名称
- B、“楷模”二字都带“木”字
- C、“楷模”原指两种树
- D、楷树、模树皆有灵气

22. 2008年12月2日央视《新闻联播》播出了有关“山寨现象”的内容，五成网友看好“山寨产品”。“山寨风”在民间流行已久，并深深地打上了草根创新、群众智慧的烙印，它在模仿与超越的羊肠小道上一路狂奔，终于闯进了主流文化的视野。它一开始瞄准的只是低端消费群体，但慢慢地突破了低收入消费群体的局限，演变为一种大众流行时尚。

这段文字表达的主要是（ ）。

- A、山寨风何以刮进了新闻联播
- B、关于山寨流行文化意义上的解读
- C、“山寨风”把貌似高端的产品送到了普通百姓手中
- D、从经济消费的视角透析一下“山寨风”的亲民路径

23. 成语中的数字运用很多，如一鼓作气、百废俱兴。非整数也进入了成语，如半途而废、半壁江山。还有两个成语：一举两得、一箭双雕。“两”和“双”是数字“2”的不同表示法。多数成语都是由四个文字组成的，数目字有时还被“连用”，如五光十色、三头六臂。也有成语纯粹由数目字组成，如三三两两、一五一十。

最适合做这段文字标题的是（ ）。

- A、成语与数字的关系
- B、成语数字趣谈
- C、数字成语与成语数字
- D、成语用遍数目字

24. 先秦诸子百家中，儒家和道家是影响最大的两家，而儒家和道家正是中国传统文化的两条主线。《论语》、《老子》分别是儒家和道家思想的主要代表作，把儒家和道家思想的源头抓住了，就比较容易把握中国传统文化的来龙去脉，还可以避免对中国传统文化的单向理解，易于进行儒、道两家思想的比较。

这段文字的主旨是（ ）。

- A、要弘扬中国的传统文化，首先就要读懂《论语》和《老子》
- B、《论语》和《老子》对中国的政治产生了广泛和深远影响
- C、在中国传统文化中，最经典的原著是《论语》和《老子》
- D、熟读《论语》和《老子》，就能为传播中国文化打好基础

25. 英国某家报纸曾举办一项有奖征答活动，题目是：在一个热气球上载有三人。一是环保专家，他可使人们免于因环境污染而死亡的厄运；二是核专家，他有能力防止全球性的核战争；三是粮食专家，他能使几千万人脱离饥荒。此刻热气球即将坠毁，必须丢出一个人以减轻载重，问该丢下谁？应答信如雪片飞来，结果，巨额奖金的得主是一个小男孩。他的答案是：最胖的下去。

对这段文字的理解正确的是（ ）。

- A、这是办法总比问题多的实例
- B、这是复杂问题简单化的典范
- C、这是棘手事情快处理的选择
- D、这是小顽童解决大难题的故事

26. 虽有秋风秋霜，白菜却茂盛成长。深秋里的成片新绿并不多见。此时，田野百花凋零，白菜仍旧水灵。叶柄宽而肥厚，瓷勺状的叶瓣弯弯的往上翘，在阳光下欢喜地仰着脸，叫人生出希望。白菜的白和南瓜的黄、辣椒的红一样，都是美的极点。

最能概括这段文字的话是（ ）。

- A、霜降对植物是一种历练
- B、家常白菜生成美的极点
- C、霜打过的白菜有回味的甘甜
- D、白菜溢出了生活本真的气息

27. 在公共汽车上，一个人张大嘴打了个哈欠，他周围会有几个人也忍不住打起了哈欠。有些人不打哈欠是因为他们受暗示性不强。哪些人受暗示性强呢？可以通过一个简单的测试检查出来。让一个人水平伸出双手，掌心朝上，闭上双眼。告诉他现在他的左手上系了一个氢气球，并且不断向上飘；他的右手上绑了一块大石头，向下坠。三分钟以后，看他双手之间的差距，距离越大，则受暗示性越强。

这段文字说明的主要是（ ）。

- A、人常常迷失在自我当中，形成一定程度的从众心理
- B、人很容易受到来自外界信息的暗示，从而出现自我知觉的偏差
- C、人很容易相信一个笼统的、一般性的人格描述特别适合他
- D、在日常生活中，人不可能总把自己放在局外人的地位来观察自己

28. “80后”这个词，最早于2001年出现在网络论坛中，指的是一批活跃于网络论坛的出生于20世纪80年代的诗人。2003年开始，它更多指的是一批被商业运作出名的生于1980年以后的写手。2004年底，随着“80后作家”的批量涌现，这个词逐渐被用来指称整个20世纪80年代出生的年轻人群体。

最适合做这段文字标题的是（ ）。

- A、“充满希望”的一代
- B、“80后”的由来
- C、用新视角理性看待“80后”
- D、“80后”引起社会的广泛关注

29. 黄山松在黄山岩石丛这种难以见容、与己为敌的环境里生长，在海拔高达一千六七百米，名松的树龄都以数百年计。这些松树因抗风御霜，针叶短粗，冠平如削，绿色深沉，枝干坚韧且富弹性，一株株显得生气勃勃，十分顽强。迎客松挺立在青狮石旁，玉屏峰与天都峰的风口上，寿逾千年，两只巨臂向四海宾客致意。

这段文字让人们悟出（ ）。

- A、松与石同外界自然密切联系
- B、松树与石头之间，不再是有我无你，你死我活

C、人与环境，人与人，变不利为互惠，在竞赛、竞争中通达和谐

D、从许多人、事、物当中，洞悉他人所无法体会的绝妙世界

30. 一间坐满了观众的剧院突然发生大火，争于逃生的观众都渴望从有限的紧急出口中尽快逃出去，但当所有人挤成一团时，必然会因为相互拥挤和彼此践踏而影响逃生速度。在这种紧急情境下，最佳的解决方案是大家同时采取合作策略，按照一定规则有序通过紧急出口。

这段文字所强调的主要是（ ）。

A、当事人不合作既会损害自身利益也会损害他人利益

B、利己策略往往无法实现自身收益最大化的目标

C、维护自身利益是需要与他人合作和付出一定代价的

D、合作策略比利己策略更有利于实现当事各方效用的最大化

31. 此次金融危机之所以会蔓延到全球，很大程度上是因为各个经济体都经历了6~7年的金融规模超常扩张、金融创新及其金融衍生品空前发展的“经济繁荣”时期。在这一模式下，各种资产价格都被不断地非理性地推高。治理危机关键要让曾经被炒作到高价格的各种资产，回归到其合理的价格水平。一段时期的资产贬值不可避免，这是对过去超速增值的“还债”。

对这段文字的准确概括是（ ）。

A、应采取积极的财政政策和适当宽松的货币政策来刺激经济

B、刺激经济同时也要挤“泡沫”

C、刺激经济的目标是促使经济正常运转起来

D、要通过政府行为或政府宣传来维护高水平的资产价格

32. 美国经济学家保罗·费德曼每拿到一个研究合同时，总会买面包圈分给大家。后来他养成了习惯，每到周末都会在办公室放一筐面包圈让大家吃。为了收回成本，他在面包筐旁放了一个篮子，标有建议价格。结果这个没人看守的收款篮收回了95%的面包钱。后来，他辞职专卖面包圈。每天一早，他将面包圈和收款篮放好。几年后，费德曼赚的钱和原来当研究分析师时一样多。

最适合做这段文字标题的是（ ）。

A、一个关于诚实的试验

B、一个靠智慧赚钱的故事

C、一种新的销售方式的产生

D、把生意当作一种经济学实验

33. 一个人离开你的视线，只消失几秒钟，你便会给他一个评语，正视的时候却不行。聪明的人，一定把后背比前脸看得更加重要。这后背就是自己的一个雕像。雕塑是由别人操作的，材料和尺度则完全由自己提供。我们不奢望把每个人都塑造成完人，但至少自己“走过去”别让人戳脊梁骨。

最适合做本段文字标题的是（ ）。

A、看好你的背影

B、背影比前脸更重要

C、人过留名，雁过留声

D、背影是一个人的德行和名声

34. 非洲草原上有一种尖毛草，是那里长得最高的茅草，可它的生长过程却极为特别。在最初的半年里，它几乎是草原上最矮的草，只有一寸高，但半年后雨水一旦到来时，却像施了魔法一样，三五天后，便会长到一米六至两米的高度。原来，在前六个月里，尖毛草不是不长，而是一直在长根部，雨季前，它虽然露头一寸，但却扎根地下超过 28 米。

这段文字启示人们（ ）。

- A、一个人成长不能只要地面以上的高度
- B、一个人的基础越牢，发展潜力越大
- C、起步最早的，不一定是发展最好的
- D、人不可貌相，海水不可斗量

35. 梅兰芳不像绝大多数因媒体包装而走红的明星那样瞬间就被人们忘却。他并不是因《一缕麻》、《牢狱鸳鸯》之类的新编剧目获得观众爱戴，而是由于在《贵妃醉酒》、《霸王别姬》、《汾河湾》这些传统戏的表演中，既恪守规矩，又能超越前人。虽因大众媒体的鼓动，经历过一段陈旧布新的喧嚣时光，终因回归传统风范而成为一代宗师。

这段文字主要说明（ ）。

- A、梅兰芳是 20 世纪上半叶中国的媒体英雄人物
- B、梅兰芳的艺术之树长青，是因为他有深厚的传统艺术积淀
- C、梅兰芳的成功之路，就是我国经济的成功之路
- D、梅兰芳是如何成为京剧观众心目中最卓越的表演艺术家的

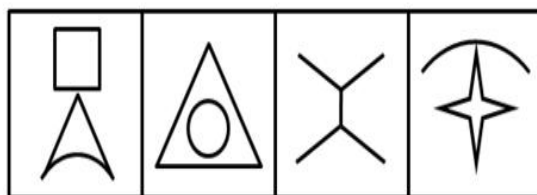
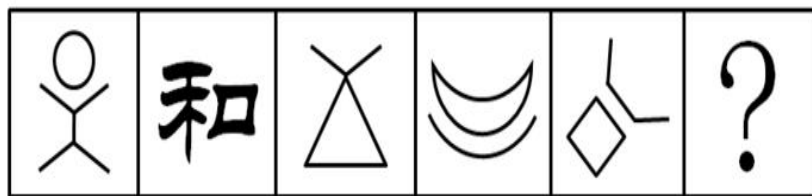
## 第二部分 判断推理（共 35 题，参考时限 30 分钟）

本部分包括图形推理、定义判断、类比推理、逻辑判断四种类型的试题。

一、图形推理。请按每道题的题目要求作答。

请开始答题：

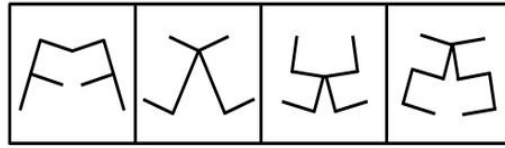
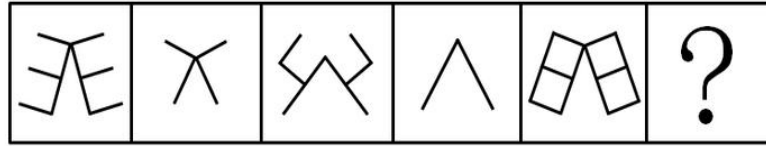
36. 从所给的四个选项中，选择最合适的一个填入问号处。使之呈现一定的规律性（ ）。



A B C D

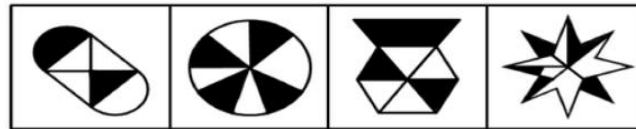
37. 从所给的四个选项中，选择最合适的一个填入问号处。使之呈现一定的规律性（ ）。






A B C D

38. 从所给的四个选项中，选择最合适的一个填入问号处。使之呈现一定的规律性（ ）。



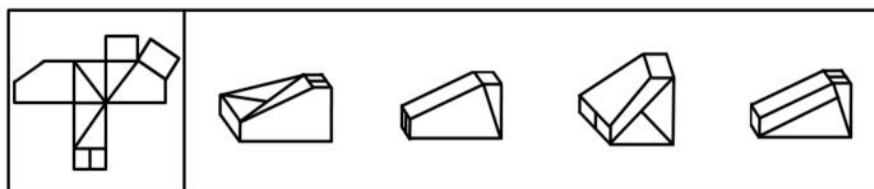
A B C D

39. 从所给的四个选项中，选择最合适的一个填入问号处。使之呈现一定的规律性（ ）。



A B C D

40. 以下是给定纸盒的外表面，下列哪一个纸盒能由以下表面折叠而成（ ）。



A B C D

二、定义判断。每道题给出一个或者多个的定义，然后分别列出四种情况，要求严格依据定义选出最符合或者最不符合该定义的答案。

请开始答题:

41. 人文关怀是指一种普通的人类自我关怀,表现为人格、人的价值、人的命运和尊严的关切,对人的生存状态和社会地位、人的进步需求、生活条件保障的关注,以及对理想人格的肯定和塑造。

根据上述定义,下列属于人文关怀的是( )。

- A、对民众的博大的爱,深刻地理解和无私地付出
- B、对人生存状况的关注,对人的生命和健康的呵护
- C、对人的精神状态和人性的深切关怀,对人的情感、意志和价值的尊重
- D、在强调国家利益的同时,关心个人的价值和利益及个人的困难和困境

42. 社会责任是公民、企业和各种组织对国家或社会公共利益方面应尽的责任或义务。社会责任就是行为主体对社会负有一定的责任,人是社会的动物,只有在社会中才能体现出人的真正本质。

根据上述定义,下列属于公民社会责任的是( )。

- A、宪法法律规定以外的公民义务
- B、公民应尽的非道德责任的责任
- C、爱国守法、明礼诚信、敬业奉献
- D、在工作单位应尽的一些岗位职责

43. 公共意识是独立自由的个体所具有的一种整体意识或整体观念。公共意识一方面是个人的主体自由的体现,另一方面是对于一个超越于个体自身以外的共同整体的体现。

根据上述定义,下列属于公共意识的是( )。

- A、期望公民必须变得无私并在行为上完全利他
- B、公民顾及私利的同时,追求公共目标和利益
- C、现代社会所张扬的一种精神气质和公共精神
- D、把自己认定为一个与他人联系在一起的集合体

44. 团队精神是指团队的成员为了团队的利益和目标,而相互协作、竭尽全力的意愿和作风。高绩效团队强大竞争力的根源,不在于其成员个人能力的卓越,而在于其成员整体“合力”的强大,其中起关键作用的就是团队精神。

根据上述定义,下列属于团队精神的是( )。

- A、忠诚、投入、志趣相投、相互吸引
- B、有凝聚力和为团队利益牺牲的意愿
- C、高绩效团队的灵魂和难以模仿的特质
- D、将每个成员“粘”在一起的“胶”

45. 城市化是人类生产与生活方式由农村型向城市型转化的历史过程,表现为乡村人口向城市人口转化以及城市不断发展和完善的过程。党的十七届三中全会会议公报指出,到2020年,城乡经济社会发展一体化机制将基本建立。

根据上述定义,下列对城市化的理解正确的是( )。

- A、大批的农民迁移到城市,由农民变为市民
- B、农民进城数量越来越多,就说明城市化率越高
- C、农民进城越多,这个地方的社会发展越先进
- D、农民生产方式的工业化、生活方式的城市化

46. 不正当竞争是指一切违反商业道德和善良风俗，特别是违反有关法律规定的商品生产经营行为。它包括垄断行为，限制竞争行为，经营者采用欺骗、胁迫、利诱、诋毁、窃用以及其他不道德手段从事市场交易的行为。

根据上述定义，下列属于不正当竞争行为的是（ ）。

- A、欺骗性交易行为、不正当销售行为、拒绝“三包”行为
- B、诋毁竞争对手行为、商业贿赂行为、无合格商品标志行为
- C、贬低竞争对手行为、附加条件的交易行为、协议限制的竞争行为
- D、侵犯商业秘密行为、不出具购物发票行为、无视消费者权益行为

47. 企业文化的核心就是以人为本的价值观，具体来说就是尊重人，服务人，发展人。尊重人，就是对人平等、关心、理解、宽容；服务人，就是为人提供周到细致的服务，提供各种保护和保障举措；发展人，就是应因人的现实需求和目标需要，实现人的各种权益和利益。

根据上述定义，下列属于企业文化的核心的是（ ）。

- A、企业领导人的一些大的经营理念和经营方略
- B、企业的责任、创新、诚信、推动力、影响力
- C、把人而不是金钱、机器看作自然资源
- D、企业管理者、业内人士、普通员工的价值观

48. 逆向思维是一种比较特殊的思维方式，它的思维取向是与常人的思维取向相反的。逆向思维并不是主张人们在思考时违逆常规，不受限制的胡思乱想，而是训练一种小概率思维模式，即在思维活动中关注小概率可能性的思维。

根据上述定义，下列属于逆向思维的是（ ）。

- A、人弃我取，人进我退，人动我静，人刚我柔
- B、以某一复杂问题的结果为发散点，尽可能多的把它与别的事物组合成新问题
- C、以某一复杂问题的结果为发散点，推出各种结果的各种原因
- D、将人们通常思考的思路稍加扭转，“歪打正着”

49. 揣摩指的是对自身以外的人和事的推测、估量、判断等。揣摩必须以良好的心态为基础，以实践经验总结为依据，以认真分析思考为前提。能够比较全面、客观和准确地推测、估量、估计、判断他人内心情感，是人们认识和处理复杂问题时必需的一种基本功。

根据上述定义，下列属于揣摩的是（ ）。

- A、知己知彼，百战不殆
- B、凡事预则立，不预则废
- C、仁者见仁，智者见智
- D、己所不欲，勿施于人

50. 食品添加剂是为提高食品品质和色、香、味、形以及防腐、保鲜和加工工艺的功能而加入食品中的化学合成或天然物质。食品添加剂只要以合理方式、合理剂量使用，不会引发食品安全问题。

根据上述定义，下列属于食品添加剂的是（ ）。

- A、色素、膨松剂、蛋白精、防腐剂
- B、甜味剂、水分、乳化剂、硫化钠
- C、味精、木糖醇、维生素、矿物质
- D、着色剂、罂粟壳、面粉处理剂

三、类比推理。请从四个选项中选出正确的一项，其关系与题干给出的词或词组在逻辑关系上最为相似或匹配。

请开始答题：

51. 位置：高度（ ）

- A、卧室：厨房      B、室内：墙壁      C、苏打：漂白      D、网球：排球

52. 地球：北极（ ）

- A、星球：月亮      B、昆虫：蚊虫      C、联合国：中国      D、书本：封面

53. 丰功：伟绩（ ）

- A、维和：行动      B、风餐：露宿      C、文化：传播      D、风卷：残云

54. 心理：承受（ ）

- A、干扰：闹钟      B、信息：刺激      C、睡眠：质量      D、消化：吸收

55. 期刊：杂志（ ）

- A、水果：柠檬      B、酱油：食品      C、油墨：印刷      D、皮肤：搔痒

56. 双杠：单杠（ ）

- A、阑尾：心脏      B、毫米：口径      C、南宋：北宋      D、纪念：周年

57. 真皮：标志（ ）

- A、模拟：通信      B、噪声：范围      C、火车：车厢      D、中国：邮票

58. 军队：军人（ ）

- A、灯具：台灯      B、车辆：轿车      C、饰品：挂件      D、文具：笔墨

59. 红光：满面（ ）

- A、东山：再起      B、魂牵：梦绕      C、五光：十色      D、雨打：芭蕉

60. 休克：昏厥（ ）

- A、同一：统一      B、口误：误口      C、分类：划分      D、再见：再会

四、逻辑判断。每给出一段陈述，这段陈述假设是正确的、不容置疑的。请根据这段陈述，选择一个答案。

注意：正确的答案不需要任何附加说明即可以根据陈述必然推出。

请开始答题：

61. 2008 年以来，索马里附近海域先后发生累计 120 起海盗劫船事件。海盗何以猖獗？甲乙丙丁四人断定如下：

甲：海盗猖獗的主因是被劫船只的船主通常都愿支付高额赎金。

乙：如果海盗猖獗的主因是被劫船主愿意支付高额赎金，那么肯定会助长海盗的气焰。

丙：确实助长了海盗的气焰，但其主因并非被劫船主都愿意支付高额赎金。

丁：海盗猖獗的主因是被劫船主愿支付高额赎金，但其嚣张气焰并非由此生成。

如果上述断定有一个为真，那么以下断定不可能为真，除了（ ）。

- A、甲                                      B、乙                                      C、丙                                      D、丁

62. 下派干部中：有三个人是到基层锻炼过的，四个是山东人，两个是济南人，五个是研究生学历。以上情况涉及了开现场会的所有人员，其中济南人不是研究生学历，那么开现场会的全部人数是（ ）。

- A、最少 5 人，最多 12 人                                      B、最少 7 人，最多 12 人  
C、最少 5 人，最多 14 人                                      D、最少 7 人，最多 14 人

63. 有一件未留姓名的好人好事在某社区传开，甲乙丙丁四人有如下对话：甲说：这件事肯定是乙、丙、丁中的一位做的。乙说：我没有做这件事，好人好事是丙做的。丙说：此事是甲和乙中的一位做的。丁说：乙说的是事实。经调查，证实这四人中有两人说的符合实际。

由此推出（ ）

- A、是甲做的好事                      B、是乙做的好事                      C、是丙做的好事                      D、是丁做的好事

64. 研究人员挑选了 600 多名学生，让他们在屏幕背景分别为红蓝两色的电脑上接受测试。结果用红色背景电脑的人在记忆、校对等准确性测试方面得分较高，而使用蓝色背景电脑的人则表现出了更出色的想象力和创造力。2004 年夏季奥运会上，穿红色服装的运动员在拳击、跆拳道、摔跤等比赛中的获胜率为 60%。蓝天、海洋给人带来开放和宁静感。

由此推出（ ）。

- A、红色在潜意识中象征某种优势                                      B、蓝色易促使人表现出更多的创造力  
C、红色和蓝色容易影响人的认知和行为                                      D、红色易使人联想起愤怒、进攻性和勇气

65. 在一次对全市中学假期加课情况的检查后，甲乙丙三人有如下结论：甲：有学校存在加课问题。乙：有学校不存在加课问题。丙：一中和二中没有暑期加课情况。

如果上述三个结论中只有一个正确，则以下哪项一定为真（ ）。

- A、一中和二中都存在暑期加课情况                                      B、一中和二中都不存在暑期加课情况  
C、一中存在加课情况，但二中不存在                                      D、一中不存在加课情况，但二中存在

66. 自今年起的每年 8 月 8 日为“全民健身日”。甲、乙、丙、丁四人议论“全民健身日”的性质。甲说：“我们办公室所有人都知道这不是法定的健身活动日。”乙说：“如果小张说这不是法定的健身活动日，那么他就认为是法定的‘国家体育日’。”丙说：“小张说这不是法定的健身活动日，也不是法定的北京奥运会纪念日。”丁说：“我们办公室有人就不知道这是法定的健身活动日，而认为是体育节。”

已知上述四人中只有一人说的不符合事实，由此能推出（ ）。

- A、甲说假话                                      B、乙说假话                                      C、丙说假话                                      D、丁说假话

67. 飞鸟的集体自杀，是大自然的一个难解之谜。当今一个通行的说法是：鸟类集体自杀，主要是地球磁极的移动使它们看不准定向标。

以下哪项如果为真，最能削弱上述专家的观点（ ）。

- A、空气漂浮的大量毒气云团是飞鸟致死的元凶                      B、飞鸟的集体死亡一般是大自然的偶然事件  
C、飞鸟吃了河海里以有毒藻类为食的虾蟹致死                      D、火山爆发产生大量硫化物造成飞鸟的集体死亡

68. 关于确定一项突击性任务的人选，甲、乙、丙三位推荐人的意见分别是：

甲：不是选派小张，就是选派小王。

乙：如果不选派小张，就不选派小王。

丙：只要不选派小王，就不选派小张。

以下几项中：同时满足甲、乙、丙三人意见的方案是（ ）。

- A、两人都选派                      B、两人都不选派                      C、选小张，不选小王                      D、选小王，不选小张

69. 研究人员通过基因操作，使实验鼠体内能够代谢葡萄糖和脂肪酸，但不能代谢醋酸，然后比较这些实验鼠和正常实验鼠在喂给饵料和绝食 48 小时的情况下，身体状态有何不同。结果发现，在被迫长时间绝食的状态下，不能代谢醋酸的实验鼠体温和耐力明显降低。醋酸是生命体内基本物质，而实验鼠身体构造又与人体非常接近。

由此推出（ ）。

- A、醋酸在其维持人体能力供应中起着至关重要的作用  
B、醋酸可以作为人体一种不会提升血糖值的能量源  
C、代谢产生的三磷酸腺苷是生命活动的能量源泉  
D、在持久运动时，脂肪酸和酮体是 ATP 的主要来源

70. 近几年，为治理城镇污水，污水处理厂的建设不断升温。大规模上马污水处理厂，的确能在短期内实现城镇生活用水 COD 的减排。但是，一些地方城镇生活污水经过鱼塘和天然湿地的生态净化，COD 浓度也能大幅度降低。

由此推出（ ）。

- A、单一的集中治理模式不符合环境保护自身的规律                      B、治污就是要付出消耗能量和资金的代价的  
C、减排手段应因地制宜，多种方式相结合                      D、为治污而治污，不能将节能与减排结合好

### 第三部分 常识判断（共 30 题，参考时限 20 分钟）

根据题目要求，在四个选项中选出一个最恰当的答案。

请开始答题：

71. 下列古谚、古训不蕴含同一哲学原理的一组是（ ）。

- A、郑人买履；按图索骥；邯郸学步；对牛弹琴  
B、鲁侯养鸟；张冠李戴；良莠不分；指鹿为马  
C、千里之行；始于足下；千里之堤；溃于蚁穴；水滴石穿；防微杜渐  
D、入山问樵；入水问渔；不入虎穴；焉得虎子；凡事要好；须问“三老”；百闻不如一见

72. “曲高和寡”出自战国宋玉的《对楚王问》，这一成语的本义是曲调高深，能跟着唱的人就少，多指知音难得。引申义是言论或作品不通俗，能了解的人很少。

如果从经济学的角度来理解，它所体现出的道理是（ ）。

- A、价格应定在边际成本上
- B、价格应定在消费者的需求线上
- C、价格应该由政府整合调控好
- D、价格应定在社会实际需求上

73. 下列观点不属于达尔文进化理论的是（ ）。

- A、生物在代代相传的繁育过程中都有可能发生变异
- B、变异的长期积累，导致各个物种出现千变万化
- C、变异是长期存在、逐步发展的，进化是逐渐发生的
- D、生物进化不是“适者生存”，而是“幸者生存”

74. 下列陈述中错误的是（ ）。

- A、在地球上的能源中，地热能仅次于太阳辐射能，排在第二位
- B、太阳能、风能、地热、潮汐能以及生物质能都是可再生资源
- C、三聚氰胺是一种含氮杂环有机化工原料，主要用于做蜜胺塑料
- D、1 纳米等于二十亿分之一米，约为 4~5 个原子排列起来的长度

75. 干燥的冷空气和富含水蒸气的暖空气相遇，发生大规模碰撞时形成的极端天气现象是（ ）。

- A、热带风暴
- B、台风
- C、飓风
- D、龙卷风

76. 在人类探测月球过程中，可以用不同方式将月球探测器送入月球轨道，我国“嫦娥一号”采用的经济、稳妥的方式是（ ）。

- A、火箭将月球探测器送入近地轨道，然后探测器自行加速进入地月转移轨道到达月球
- B、将月球探测器送入环地大椭圆轨道，在大椭圆轨道近地点加速进入地月转移轨道
- C、火箭将月球探测器送到地月引力平衡点处，探测器加速进入月球轨道到达月球
- D、火箭将月球探测器直接送入地月转移轨道到达月球

77. 我国“十一五”时期能源发展规划提出了能源发展的总体要求。其中，属于维护我国能源安全的基本方略是（ ）。

- A、节约优先，把节能作为基本国策，坚持开发与节约并重，不断提高能源利用率
- B、主要依靠国内解决能源供给问题，加快能源工业发展，增强国内能源供给能力
- C、加强合作，坚持平等互利、合作双赢，积极开展能源领域的国际合作
- D、坚持以煤炭为主体，以电力为中心，加快再生能源和新能源开发

78. 2008 年，国务院发布推进长三角地区改革发展的指导意见，提出了长三角地区改革发展的四项主要原则，其中坚持一体化发展的重要内容是（ ）。

- A、努力提高自主创新能力，切实加强资源节约和环保
- B、着力保障和改善民生，加强社会主义民主和法制建设
- C、加强与周边地区和长江中下游地区的联合与协作
- D、统筹区域内基础设施建设，形成统一开放的市场体系

79. 最近，我国以前所未有的力度扩大投资规模，启动和加快建设一批国家级重点工程。其中，投资额为千亿元级

的四大工程是（ ）。

- A、青藏铁路、南水北调、西气东输、西电东送
- B、月球探测二期、西部路网、阳江核电站、北京地铁新线
- C、西气东输二线、京沪高铁、核电工程、南水北调
- D、天湾核电站、人造卫星发射、上海磁悬浮铁路、城际轨道交通

80. 我国面临的生态环境形势十分严峻,生态环境状况已临近生态阈值。下列陈述正确的是（ ）。

- A、现有荒漠化土地面积已占国土总面积的 10%
- B、荒漠化土地每年仍在增加 1 万多平方公里
- C、七大江河水系,劣五类水质占 20%
- D、50%的湖泊出现不同程度的富营养化

81. 以马克思的逻辑看来,资本主义的古典危机与当代危机并无本质不同,都是生产过剩危机。但在古典危机中,生产过剩直接表现为商品卖不出去,最终引发金融动荡,股市崩溃;而在当代危机中,生产过剩直接表现为（ ）。

- A、有效需求不足
- B、有效需求旺盛
- C、“透支消费”
- D、“寅吃卯粮”

82. 目前,“金砖四国”的经济总量大致是美国的一半,在全球金融风暴的当下,虽然经济也遭受影响,但“金砖四国”的实力仍令世界刮目相看。”金砖四国”是指（ ）。

- A、巴西、俄罗斯、印度和中国
- B、中国、南非、俄罗斯和印度
- C、巴西、印度、英国和南非
- D、印度、法国、南非和英国

83. 中央经济工作会议提出的 2009 年经济工作的首要任务是保持经济平稳,要着力在（ ）。

- A、扩内需上下功夫
- B、保增长上下功夫
- C、促改革上下功夫
- D、惠民生上下功夫

84. “依法治国,建设社会主义法治国家”作为中国共产党领导人民治理国家的基本方略,以宪法修正案的形式写进宪法的时间是（ ）。

- A、1988 年
- B、1993 年
- C、1995 年
- D、1999 年

85. 两岸海运直航、空运直航、直接通邮正式启动时间是（ ）。

- A、2008 年 10 月 1 日
- B、2008 年 12 月 15 日
- C、2008 年 12 月 31 日
- D、2009 年 1 月 1 日

86. 世界人权宣言,是联合国大会以 48 票赞成,0 票反对,8 票弃权通过的,是全世界人权事业进入一个崭新阶段的重要里程碑。世界人权宣言通过的时间是（ ）。

- A、1948 年
- B、1984 年
- C、1986 年
- D、1966 年

87. 《中华人民共和国公务员法》规定,录用公务员,必须在规定的编制限额内进行,并有相应的（ ）。

- A、职位空缺
- B、计划空缺
- C、职务空缺
- D、职数空缺

88. 2009 年山东省政府工作报告提出今年山东经济和社会发展的多项主要预期目标,其中生产总值增长（ ）。

- A、7%左右
- B、8%左右
- C、9%左右
- D、10%左右

89. 在公文写作中,一些数词有固定的用法。以下表述不正确的是（ ）。

- A、从 10 增加到 50,可以说“增加了 4 倍”
- B、从 100 增加到 500,可以说“增加到 4 倍”
- C、从 10 减少到 1 可以说“减少了 9/10”
- D、从 100 减少到 10,可以说“减少到 1/10”



90. 山东是中华文明的发祥地之一，下列说法有误的是（ ）。
- A、发现最早的“沂源人”，可把山东的历史上推到四五十万年以前
  - B、临淄为西周、春秋时期齐国的国都，战国时期齐国迁都曲阜
  - C、《管子·地员》是世界上最早的生态学与地质学著作
  - D、山东省境内有鲁文化、齐文化、运河文化、泰山文化等
91. (多选题) 实事求是马克思主义哲学中的一个基本命题。实事求是中的求实精神与实用主义的实用原则都讲实际。但它们的精神实质迥然不同，其区别在于（ ）。
- A、前者所求的“是”为客观事物的规律，后者追求的是实际效果
  - B、前者所讲的“实际”为客观存在的一切事物，后者是个人经验
  - C、前者以客观实际为出发点，后者以个人的经验和行动为出发点
  - D、前者是一种普遍性的方法原则，后者代表美国特有的思维方式
92. (多选题) 对自然地理中“东亚”和“亚太”概念范围的认定正确的是（ ）。
- A、“东亚”包括“东亚”和“东南亚”
  - B、“东亚”包括中国、日本、蒙古和朝鲜半岛
  - C、“亚太”包括亚洲、濒临太平洋的美洲国家、澳洲和南太平洋岛国
  - D、“亚太”包括亚洲东部沿太平洋的国家及地区、濒临太平洋的美洲国家和澳洲
93. (多选题) 世界四大地热带均沿着板块边缘分布。其中通过中国的有（ ）。
- A、环太平洋地热带
  - B、大西洋中脊地热带
  - C、地中海-喜马拉雅地热带
  - D、红海-亚丁湾-东非裂谷地热带
94. (多选题) 中国革命史上，一些历史事件产生了深远影响。按事件发生先后排列无误的是（ ）。
- A、南昌起义—秋收起义—百色起义
  - B、西安事变—卢沟桥事变—皖南事变
  - C、平型关大捷—百团大战—重庆谈判
  - D、上党战役—莱芜战役—孟良崮战役
95. (多选题) “未秋先秋，踏断蛮牛”“生地茄子熟地瓜，生地菜子熟地花”“庄稼施肥有技巧，看天看地又看苗”“天灾不由人，抗灾不由天”。这些农谚告诉我们的哲学道理是（ ）。
- A、用联系、发展、矛盾的观点看问题
  - B、坚持一切从实际出发，具体问题具体分析
  - C、坚持规律客观性和主观能动性的统一
  - D、发挥主观能动性必须以尊重客观规律为前提
96. (多选题) 以下对中国封建社会一些专有名词的解释准确的是（ ）。
- A、秦朝“三公”“九卿”中的“三公”，为丞相、太尉和御史大夫
  - B、隋朝“三省”“六部”中的“三省”，为中书省、门下省和尚书省
  - C、明朝科考“八股文”规定每篇由破题、承题、起讲、领题等组成
  - D、清朝“连中三元”即在乡试、会试、殿试三次考试中均名列前茅
97. (多选题) 如今，一些在东部地区“人人喊打”的小化工企业，却成为中西部地区招商引资的“香饽饽”。这

种“污染大搬家”的现象表明，污染企业只是“区域淘汰”，而不是市场淘汰。解决这一问题应当（ ）。

- A、取消当地因环境问题被取缔的企业申办新企业的资格
- B、被取缔的企业名单纳入到全国各大媒体的“黑名单”中
- C、建立全国统一的监督网络，不让污染小化工企业异地重生
- D、针对小化工企业搬家问题进行专项整治，在各地形成取缔之势

98. (多选题)党的十七大报告指出，深入贯彻落实科学发展观，要求我们（ ）。

- A、始终坚持“一个中心、两个基本点”的基本路线
- B、积极构建社会主义和谐社会
- C、继续深化改革开放
- D、切实加强和改进党的建设

99. (多选题)今年的中央一号文件强调，进一步规范农村土地承包经营权的流转。所谓要规范，就是要（ ）。

- A、重申过去的法律和政策，必须让农民自愿地选择
- B、任何人不能强迫农民去流转土地
- C、任何人不得阻止农民依法自愿地流转土地
- D、不得改变土地的所有权、用途和损害承包方的利益

100. (多选题)今年是推进“十一五”规划顺利实施的关键一年，山东要实现由经济大省向经济文化强省的新跨越，就要做好“新、特、优”三篇文章，当前应重点抓好（ ）。

- A、创新发展理念、更新发展思路、转变发展方式，形成协调发展新格局
- B、发展能够使地域、资源等优势得到充分发挥的特色产业、特色经济
- C、优化经济结构，优化产品质量，优化资源利用，优化生态环境
- D、优化整顿金融秩序，防范金融风险

## 第四部分 数量关系（共 20 题，参考时限 20 分钟）

一、数字推理。给你一个数列，但其中缺少一项。要求你仔细观察数列的排列规律，从四个选项中，选择最合适的一项，使之符合原数列的排列规律。

请开始答题：

101、13, 9, 31, 71, 173, ( )

- A、235
- B、315
- C、367
- D、417

102、3, 10, 29, 66, 127, ( )

- A、218
- B、227
- C、189
- D、321

103、13, 17, 26, ( ), 67, 103

- A、28
- B、36
- C、42
- D、45

104、2, 4, 3, ( ),  $\frac{13}{4}$ ,  $\frac{27}{8}$ ,  $\frac{53}{16}$

- A、1                      B、 $\frac{7}{2}$                       C、 $\frac{7}{3}$                       D、4
- 105、2, 1,  $\frac{6}{7}, \frac{4}{5}, \frac{10}{13}$  ( )
- A、 $\frac{4}{3}$                       B、 $\frac{3}{4}$                       C、 $\frac{7}{15}$                       D、 $\frac{7}{16}$

**二、数学运算。通过运算，选择最合适的一项。**

**请开始答题：**

106. 一小型货车站最大容量为 50 辆车，现有 30 辆车，已知每小时驶出 8 辆，驶入 10 辆，则多少小时车站容量饱和 ( )。
- A、8                      B、10                      C、12                      D、14
107. 某单位有 78 个人，站成一排，从左向右数，小王是第 50 个，从右向左数，小张是第 48 个，则小王小张之间有多少人 ( )
- A、16                      B、17                      C、18                      D、20
108. 疾病控制中心，对某校高中三个年级的学生进行抽样做视力状况调查，抽样的方法为分层抽样(按比例抽样)若高一、二、三年级学生人数分别为 626、703、780，样本容量为 84，则应从高二年级抽样的学生人数为多少 ( )
- A、24                      B、26                      C、28                      D、30
109. 某高校有 A、B 两个食堂，开学第一天 A 食堂就餐人数为 8000，但其中 20%在第二天流失到 B 食堂就餐，同时，第一天在 B 食堂就餐者有 30%于第二天流失到 A 食堂，如果第二天两食堂就餐人数相同，则第一天 B 食堂人数为多少 ( )
- A、10000                      B、11000                      C、12000                      D、13000
110. 商场开展促销活动，凡购物满 100 元返还现金 30 元，小王现有 280 元，最多能买到多少元的物品 ( )
- A、250                      B、280                      C、310                      D、400
111. 大学四年级某班共有 50 名同学，其中奥运会志愿者 10 人，全运会志愿者 17 人，30 人两种志愿者都不是，则班内是全运会志愿者而非奥运会志愿者的同学为多少 ( )
- A、3                      B、7                      C、10                      D、17
112. 有两种电话卡：第一种每分钟话费 0.3 元，除此以外，无其他费用；第二种电话卡，每分钟 0.2 元，另有每月固定费用 10 元(无论拨打与否都要扣)。如果小王每月通话量不低于两个小时，则他办理哪种卡比较合算( )
- A、第一种                      B、第二种                      C、两个卡一样                      D、无法判断
113. 某商场以摸奖的方式回馈顾客，盒内有五个乒乓球，其中一个为红色，2 个为黄色，2 个为白色，每位顾客从中任意摸出一个球，摸到红球奖 10 元，黄球奖 1 元，白球无奖励，则每一位顾客所获奖励的期望值为多少( )
- A、10                      B、1.2                      C、2                      D、2.4

114. 用 2、3、4、5、6、7 六个数字组成两个三位数，每个数字只用一次，这两个三位数的差最小是多少（ ）
- A、47                      B、49                      C、69                      D、111
115. 某单位有 3 名职工和 6 名实习生需要被分配到 A、B、C 三个地区进行锻炼，每个地区分配 1 名职工和 2 名实习生，则不同的分配方案有多少种（ ）
- A、90                      B、180                      C、270                      D、540
116. 甲、乙两人由于顺路搭乘同一辆出租车，甲做了 4 公里后下了车，出租车又走了 6 公里，乙下车并付了 18 元车费，如果由两人分摊，甲应分摊多少元（ ）
- A、3 元                      B、3.6 元                      C、7.2 元                      D、7.5 元
117. 某校初一年级共有三个班，一班与二班人数之和为 98，一班与三班人数之和为 106，二班与三班人数之和为 108，则二班人数为多少人（ ）
- A、48                      B、50                      C、58                      D、60
118. 电影票原价若干元，现在每张降价 3 元出售，观众增加一半，收入也增加  $\frac{1}{5}$ ，一张电影票原来为多少元（ ）
- A、4.5                      B、7.5                      C、12                      D、15
119. 某工程项目由甲项目公司单独做，需 4 天完成，由乙项目公司单独做，需 6 天才能完成，甲、乙、丙三个公司共同做 2 天就可以完成，现因交工日期在即，需多公司合作，但甲公司因故退出，则由乙、丙公司合作完成此项目共需多少天（ ）
- A、3                      B、4                      C、5                      D、6
120. 分多次用等量清水去冲洗一件衣服，每次均可冲洗掉上次所残留污垢的  $\frac{3}{4}$ ，则至少需要多少次才可使得最终残留的污垢不超过初始污垢的 1%（ ）
- A、3                      B、4                      C、5                      D、6

## 第五部分 资料分析（共 20 题，参考时限 20 分钟）

下列所给出的图形、表格、文字或综合性资料均有五个问题要你回答，请你根据资料所提供的信息进行分析、比较、计算和判断处理，然后从备选答案中选择一个最恰当的答案。

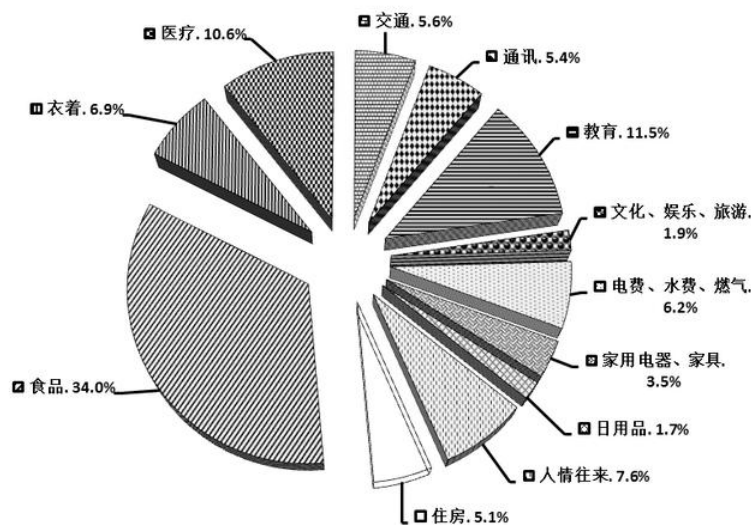
请开始答题：

### 一、根据以下材料，回答 121-125 题

2008 年中国家庭居民的消费水平持续提高，与 2006 年社会状况综合调查结果比较，消费支出总额从 17388 元升高到 22555 元（未考虑价格变动因素），消费结构也进一步改善，作为家庭生活水平标志的恩格尔系数（家庭食品支出占消费总支出的比例）进一步降低。在 2008 年城乡家庭消费支出细项中，列前三位的消费类型是食品、教育和医疗，分别占总支出的 34.0%、11.5%和 10.6%。

调查还显示，城乡居民消费的总体结构及家庭生存型消费（包括食品与衣着类）与发展型消费（包括居住、

交通、通讯、文教、娱乐用品、医疗保健、旅游等)所占比重,都发生了重要变化。从购买商品和服务的消费情况看,城乡居民消费层次有所提高。大众耐用消费品普及率提高较快,但家庭消费率总体仍偏低。



121. 城乡家庭居民的消费结构最主要的特点是 ( )。
- A、居民消费水平持续提高, 总体结构进一步改善  
 B、城乡居民消费商品化程度较高, 但消费层次存在明显差异  
 C、家庭消费率总体偏低, 消费率随收入提高而边际递减  
 D、大众耐用消费品普及率较高, 农村消费发展潜力巨大
122. “图一: 城乡家庭居民的消费结构”说明: 在城乡家庭消费支出中, 生存型消费的比重约占到消费总支出的近 ( )。
- A、31%                      B、41%                      C、51%                      D、61%
123. 由“图一: 城乡家庭居民的消费结构”可见: 在城乡家庭消费支出中, 发展型消费的比重占到消费总支出的 ( )。
- A、40%以上                  B、50%以上                  C、60%以上                  D、70%以上
124. 城乡家庭居民的消费结构图说明: 中国的消费结构已经在总体上完成了从生存型向发展型的过渡, 进入了 ( )。
- A、大众消费阶段          B、适度消费阶段          C、中等消费阶段          D、较高消费阶段
125. 教育和医疗支出占城乡家庭消费总支出的比例比较高, 分别占 11.5%和 10.6%, 教育和医疗的家庭消费支出比例较高, 主要显示了 ( )。
- A、家庭消费结构升级的发展趋势  
 B、教育、健康方面的支出是一种刚性消费  
 C、教育、医疗的费用和支出, 存在比重过高的问题  
 D、教育、医疗的费用和支出增长过快, 影响到居民一般生活质量的改善

二、根据以下表一和文字资料，回答 126-130 题

表一：2004~2007 年城乡居民消费状况表

年份/项目	城镇居民人均生活消费支出(元)	农村居民人均生活消费支出(元)	城镇居民恩格尔系数	农村居民恩格尔系数
2004 年	7182	2185	37.7%	/
2006 年	8697	2829	35.8%	43.0%
2007 年	9997	3223	36.3%	43.1%

另据统计，2004 年农村居民人均食品消费支出为 1032 元

126. 与 2006 年相比较，2007 年农村居民人均生活消费支出增长（ ）。
- A、近 12%                      B、近 13%                      C、近 14%                      D、近 15%
127. 如果以恩格尔系数作为衡量居民生活水平高低的标准，根据统计数据，与 2006 年相比，2007 年我国城乡居民家庭生活水平（ ）。
- A、略有降低                      B、略有提高                      C、没有变化                      D、无法确定
128. 2004 年农村居民恩格尔系数约为（ ）。
- A、14.4%                      B、15.4%                      C、42.7%                      D、47.2%
129. 2007 年的城镇家庭食品支出额约为（ ）。
- A、1172 元                      B、1433 元                      C、3629 元                      D、4309 元
130. 由“表一：2004~2007 年城乡居民消费状况表”可知，2007 年城镇居民家庭食品支出比农村家庭食品支出高（ ）。
- A、1.61 倍                      B、2.61 倍                      C、1.41 倍                      D、1.31 倍

三、根据以下材料，回答 131-135 题

表二：城乡家庭消费水平和消费结构比较

消费类型	城市家庭		农村家庭	
	金额(元)	比例(%)	金额(元)	比例(%)
住房	1865.9	6.6	484.7	2.8
食品	9790.2	34.5	5751.0	33.3
衣着	1957.6	6.9	1171.7	6.8
医疗	2670.9	9.4	2141.6	12.4
交通	1425.0	5.0	1107.0	6.4
通讯	1482.9	5.2	965.8	5.6
教育	3170.5	11.2	2069.2	12.0
文化、娱乐、游泳	717.8	2.5	180.3	1.0
电费、水费等日常开销	1935.3	6.8	926.9	5.4
家用电器、家具	1010.7	3.6	567.3	3.3
日用品	467.7	1.7	313.7	1.8
人情往来	1849.1	6.5	1605.7	9.3
合计	28343.7	100	17285.0	100

一般来说，恩格尔系数可以衡量家庭生活水平状况，但在调查发现了低收入家庭恩格尔系数比中低和中等收入家庭恩格尔系数低的特殊状况。调查结果显示，家庭消费率明显偏低。

131. 由“表二：城乡家庭消费水平和消费结构比较”分析得出：城乡家庭消费差异和问题主要是（ ）。

- A、城乡家庭消费水平差异较大，消费结构差异明显
- B、教育、医疗等发展型消费呈刚性特点
- C、低收入家庭生活质量受到影响
- D、家庭消费率总体偏低，消费率随收入提高而边际递减

132. 上述文字资料主要显示（ ）。

- A、食品支出占家庭总消费支出的比例越高，家庭生活水平就越低
- B、食品支出占家庭总消费支出的比例越低，家庭生活水平就越高
- C、低收入家庭的食物支出数额较低，占消费总支出的比例也较低
- D、城市低收入家庭食物支出数额高于中等收入家庭食物支出数额

133. 调查发现，城市低收入家庭平均食物支出数额为 4898.8 元，占消费总支出 14321 元的比例为（ ）。

- A、24.2%
- B、28.2%
- C、34.2%
- D、38.2%

134. 通过数据分析发现，低收入家庭的恩格尔系数较低的特殊情况，主要是因为（ ）。

- A、为了保证教育和医疗等发展型消费而省吃俭用
- B、城市低收入家庭住房消费支出数额较高
- C、城市低收入家庭的保险等消费数目较大
- D、城乡低收入家庭食物消费支出一直不高

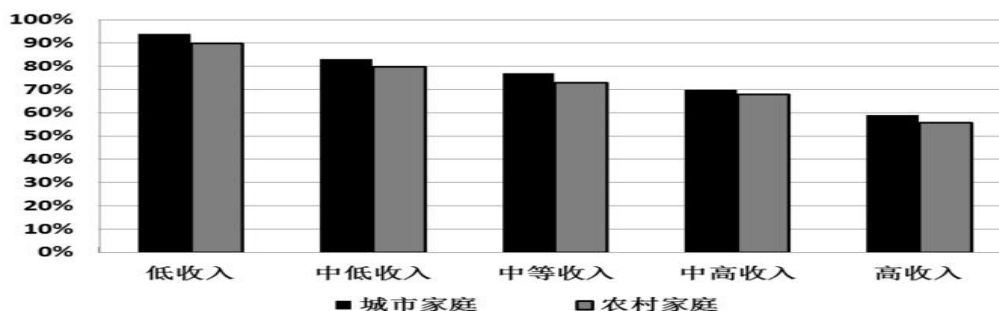
135. 我国家庭的消费率长期低于发达国家和其他同等水平的发展中国家，其原因主要是（ ）。

- A、与长期形成的勤俭持家传统有关
- B、与中国家庭文化和消费观念有关
- C、为了应对住房、医疗、教育等大宗消费支出的不确定性
- D、消费品零售价格偏高

#### 四、根据以下材料，回答 136-140 题

根据调查结果测算，家庭平均消费率在 76%左右，城市家庭消费率为 77.6%，高于农村家庭的 74.1%，说明城市家庭的即期消费倾向要略高于农村。调查结果表明，不论城市还是农村，家庭消费率随着收入增加而递减。低收入家庭消费率高达 90%以上，高收入家庭消费率比较低，城市和农村高收入家庭的消费率分别为 57.9%和 53.9%。高收入家庭的消费水平与其他几类家庭的差距较为悬殊，高收入家庭的消费绝对数额约等于中等收入加上中高收入家庭的消费数额。以城市为例，中等收入家庭年平均消费支出 24790.5 元，中高收入家庭年平均消费支出 31508.7 元，两者相加仅比高收入家庭年平均消费支出 55772.6 元高 526.6 元。

图二：分城乡按收入水平划分的家庭支出收入比



136. “图二：分城乡按收入水平划分的家庭支出收入比”显示：不同收入层次的家庭，其消费率的变化呈现出规

则的曲线，以家庭消费率代表家庭即期消费的倾向，比率越高，即期消费倾向（ ）。

- A、越强烈                                      B、越微弱                                      C、越显著                                      D、越明显

137. 则“图二：分城乡按收入水平划分的家庭支出收入比”说明：从增加收入以刺激消费的角度来看，高收入家庭收入的增加（ ）。

- A、不会在短时间内带动商品消费的增长                                      B、会在长时间内带动商品消费的增长  
C、会在短时间内带动服务消费的增长                                      D、将不会产生更多的家庭积累和储蓄

138. 调查结果表明：“不论城市还是农村，家庭消费率随着收入增加而递减。低收入家庭消费率高达90%以上。”根据这一结果，下列说法不正确的是（ ）。

- A、低收入家庭每年收入几乎全部用于消费  
B、低收入家庭收入水平提高，能够更快、更多地提高消费支出水平  
C、增加低收入家庭的收入比增加高收入家庭的收入，对刺激消费更加有效  
D、低收入家庭每年收入的10%以上用于储蓄和积累

139. 高收入家庭消费率比较低，意味着城市和农村高收入家庭每年收入的（ ）。

- A、20%以上用于储蓄和积累                                      B、30%以上用于储蓄和积累  
C、40%以上用于储蓄和积累                                      D、50%以上用于储蓄和积累

140. 拉动内需，促进城乡居民消费是重要对策，为此投资的重点应该是加大就业、教育、医疗、住房、社会保障等领域的投资力度，最关键的措施是（ ）。

- A、认清当前我国家庭消费所处发展阶段，促消费保增长保就业  
B、改革和完善住房、医疗和教育制度体系，解决家庭正常消费的后顾之忧  
C、完善城乡均等的公共服务体系，减少农村家庭公共服务消费支出比例  
D、理顺收入分配关系，重点帮扶农村和低收入家庭提高收入水平